

به نام خدا

نام و نام خانوادگی:

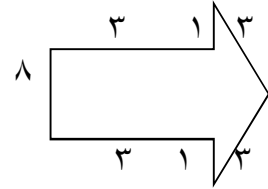
۹۸/۱۲/۱۷

دبستان پسرانه علامه حلی ۱ دوره اول

پایه: سوم

تکلیف هفتگی ریاضی

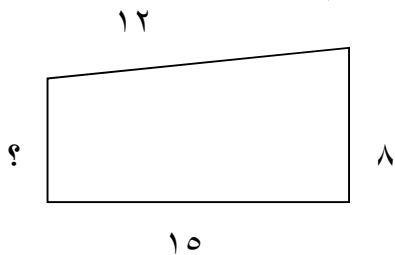
۱- محیط شکل های زیر را حساب کنید.



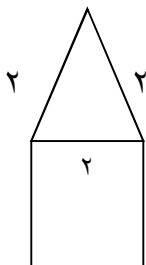
۲- محیط یک مربع ۲۰ سانتی متر است اندازه هر ضلع مربع چند سانتی متر است؟

۳- اگر مجموع طول و عرض یک مستطیل ۱۲ سانتی متر باشد محیط مستطیل چند سانتی متر می شود؟

۴- اگر محیط شکل زیر ۴۵ سانتی متر باشد اندازه ی ضلعی که معلوم نیست چند سانتی متر است؟



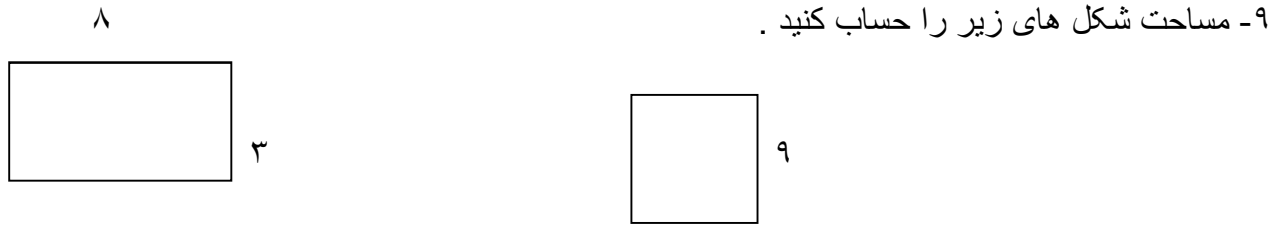
۵- محیط شکل زیر چند سانتی متر است؟



۶- اندازه ی دور هر شکل را می گویند.

۷- اندازه ی سطح هر شکل را آن شکل می گویند.

۸ - یک سانتی متر مربع مساحت مربعی است که طول هر ضلع آن سانتی متر باشد.



۱۰- باغچه ای به شکل مستطیل داریم که طول آن ۷ متر و عرض آن ۳ متر است مساحت این باغچه چند متر است ؟

۱۱- مساحت حوض آبی به شکل مستطیل ۲۱ متر مربع است . اگر عرض آن ۳ متر باشد. طول این حوض چند متر است ؟

۱۲- طول حیاط مستطیل شکلی ۶ متر و عرض آن ۳ متر است . نصف مساحت این مستطیل چند متر مربع است ؟

۱۳- وقتی می گوئیم مساحت این اتاق ۱۷ متر مربع است به چه معنی است ؟

۱۴ قطرهای هر شکل را رسم کنید. و زیر هر کدام بنویسید هر شکل چند قطر دارد .

